

## MODUŁ 2. INFORMACJE O ZAWODZIE

### 1. Zadania zawodowe

Absolwent szkoły kształcącej w zawodzie **technik mechanik** powinien być przygotowany do wykonywania następujących zadań zawodowych:

- 1) wytwarzania części maszyn i urządzeń;
- 2) dokonywania montażu maszyn i urządzeń;
- 3) instalowania i uruchamiania maszyn i urządzeń;
- 4) obsługiwanie maszyn i urządzeń;
- 5) organizowania procesu produkcji.

### 2. Wyodrębnienie kwalifikacji w zawodzie

W zawodzie **technik mechanik** wyodrębniono 2 kwalifikacje.

Numer kwalifikacji (kolejność w zawodzie)	Symbol kwalifikacji z podstawy programowej	Nazwa kwalifikacji
K1	M.17. albo M.19 albo M.20.	<i>M.17. Montaż i obsługa maszyn i urządzeń albo M.19. Użytkowanie obrabiarek skrawających, albo M.20. Wykonywanie i naprawa elementów maszyn, urządzeń i narzędzi</i>
K2	M.44.	<i>Organizacja i nadzorowanie procesów produkcji maszyn i urządzeń</i>

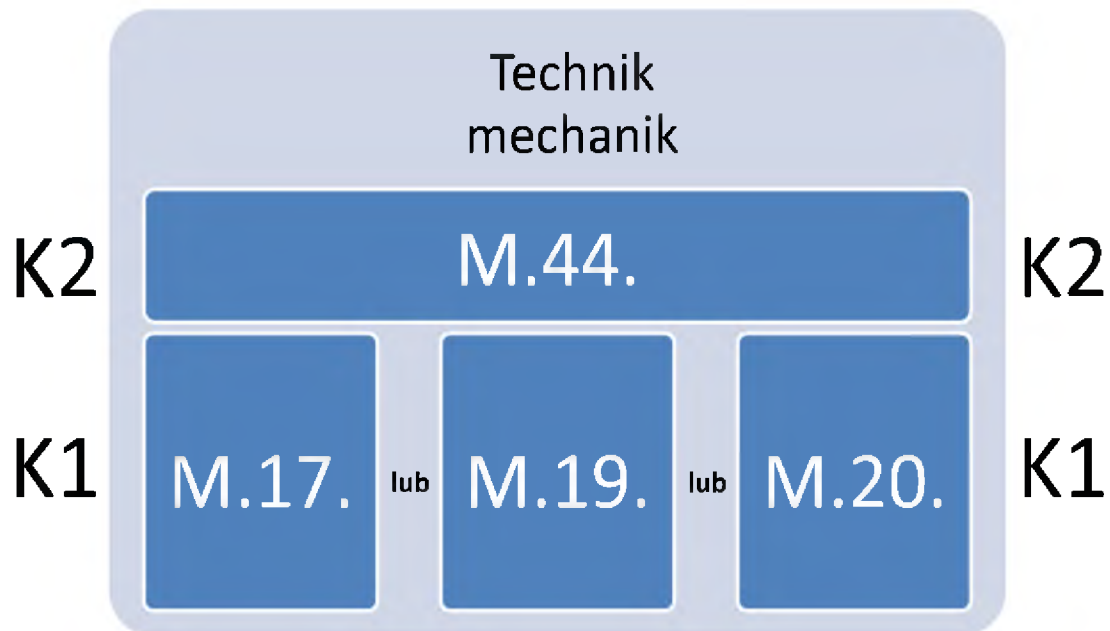
### 3. Możliwości kształcenia w zawodzie

Klasyfikacja zawodów szkolnictwa zawodowego przewiduje możliwość kształcenia w zawodzie **technik mechanik** w 4-letnim technikum. Istnieje również możliwość kształcenia na kwalifikacyjnych kursach zawodowych w zakresie kwalifikacji *M.17. Montaż i obsługa maszyn i urządzeń albo M.19. Użytkowanie obrabiarek skrawających albo M.20. Wykonywanie i naprawa elementów maszyn, urządzeń i narzędzi* oraz *M.44. Organizacja i nadzorowanie procesów produkcji maszyn i urządzeń*.

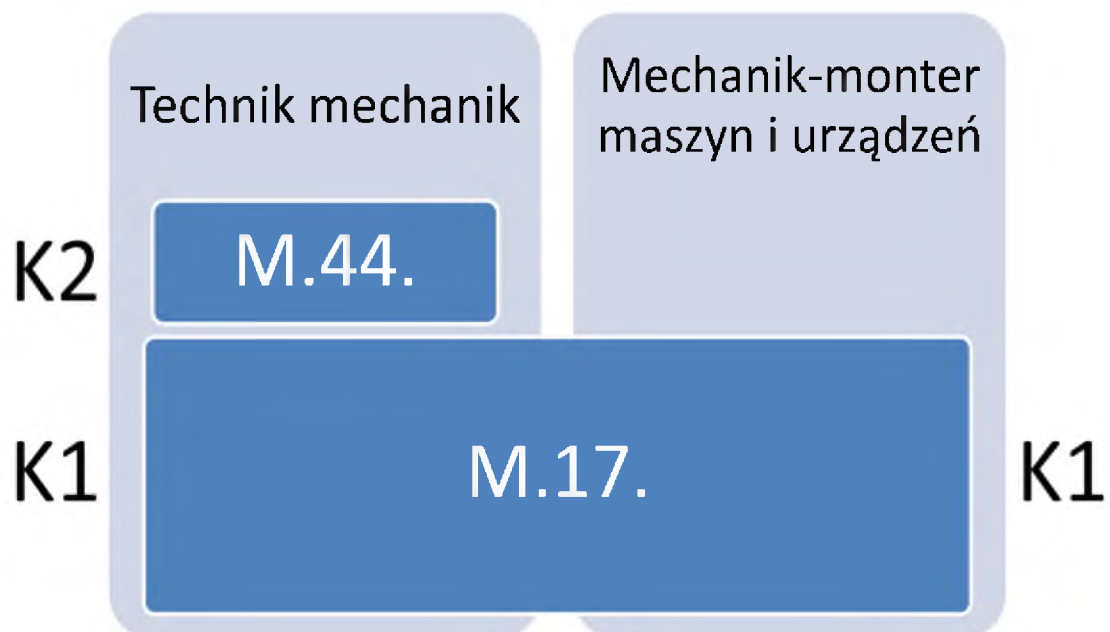
### 4. Wspólne kwalifikacje w zawodach

Oprócz zawodu **technik mechanik**, kwalifikację M.17. wyodrębniono w zawodzie **mechanik-monter maszyn i urządzeń**, kwalifikację M.19. – w zawodzie **operator obrabiarek skrawających**, a kwalifikację M.20. – w zawodzie **ślusarz**.

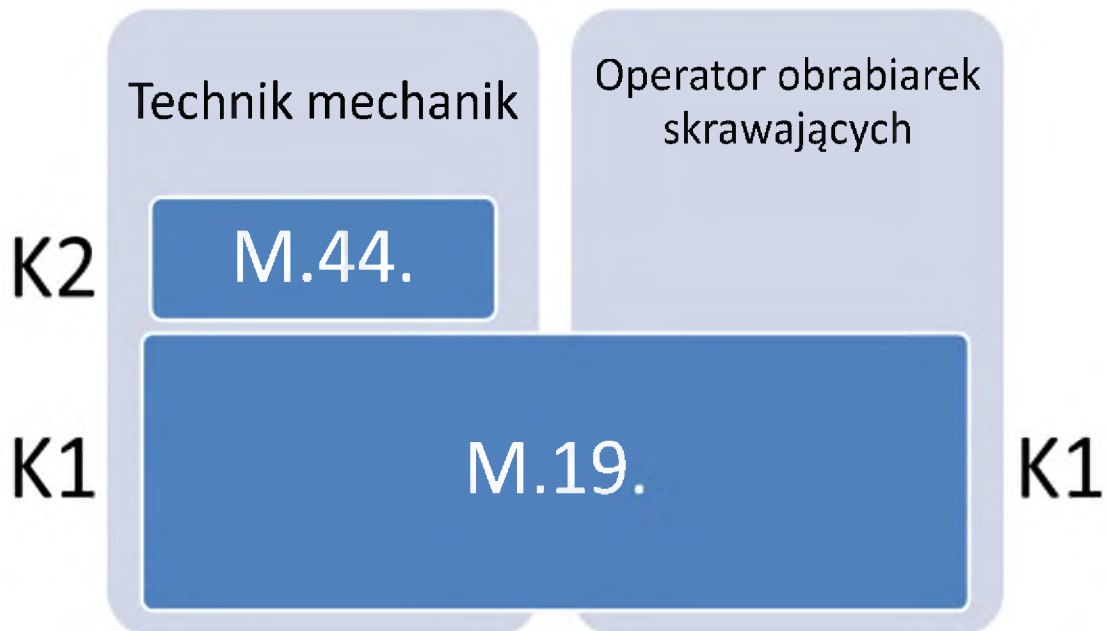
Zależności między zawodami przedstawiają rysunki.



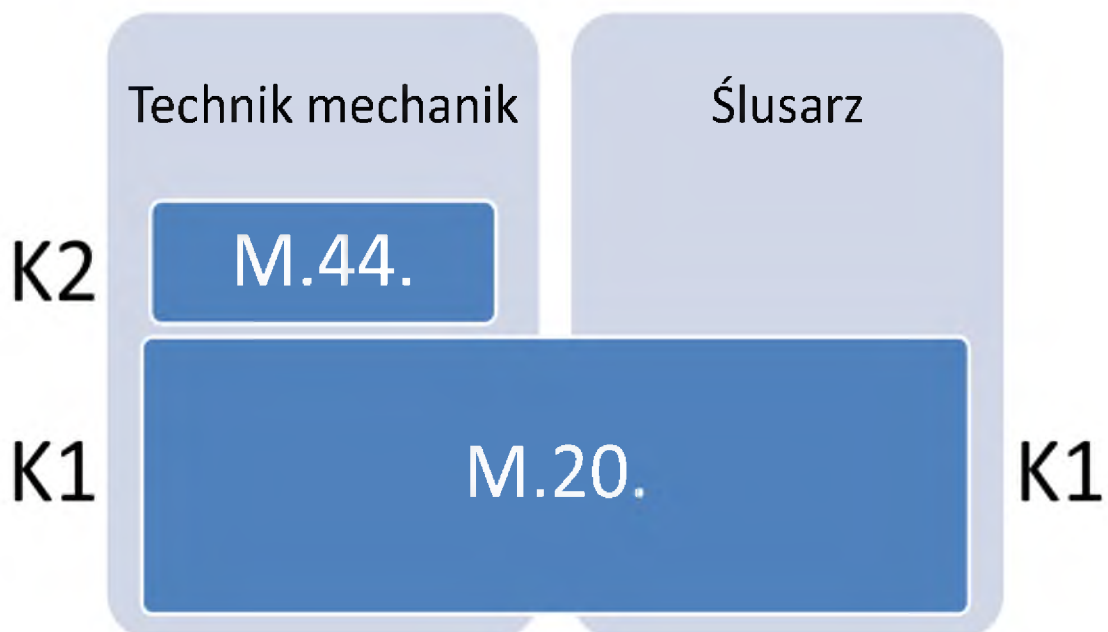
Rysunek M2.1. Zależności między kwalifikacjami w zawodzie **technik mechanik**



Rysunek M2.2. Zależności między zawodami **technik mechanik** i **mechanik-monter maszyn i urządzeń**



Rysunek M2.3. Zależności między zawodami **technik mechanik** i **operator obrabiarek skrawających**



Rysunek M2.4. Zależności między zawodami **technik mechanik** i **ślusarz**